

1. Σύμφωνα με το Σύνταγμα επιτρέπεται να αφαιρεθεί η ελληνική ιθαγένεια:

- α. Όταν κάποιος στερηθεί τα πολιτικά του δικαιώματα
β. Όταν κάποιος απέκτησε εκούσια άλλη ιθαγένεια
γ. Όταν κάποιος καταδικάστηκε σε ισόβια κάθειρξη
δ. Τίποτε από τα ανωτέρω

2. Επιλέξτε τη σωστή πρόταση:

- α. Η αμνηστία αίρει τις ποινές και το αξιόποιο του χαρακτήρα τους.
β. Η χάρις απονέμεται μόνο στα πολιτικά αδικήματα.
γ. Η απονομή χάριτος δεν είναι ατομικό μέτρο, αλλά νόμος γενικός και αφηρημένος.
δ. Η αμνηστία έχει σαν σκοπό την επανένταξη του εγκληματία που έχει μεταμληθεί, ενώ η απονομή χάριτος αποσκοπεί στην επίτευξη εθνικής ομοψυχίας.

3. Η παραχώρηση του δικαιώματος της ψήφου στις γυναίκες, παρουσιάζεται επιβεβλημένη πραγματικότητα υπό το πρίσμα του συνδυασμού των εξής συνταγματικά κατοχυρωμένων δικαιωμάτων:

- α. της ισότητας και της συνδικαλιστικής ελευθερίας
β. της ισότητας και της ελεύθερης ανάπτυξης της προσωπικότητας
γ. της ασφάλειας και της ελευθερίας του τύπου
δ. αποκλειστικά της ισότητας

4. Ποια δικαιώματα υποχρεώνουν το κράτος να μην επεμβαίνει αυθαίρετα στην προσωπική ζωή των πολιτών;

- α. πολιτικά
β. ατομικά
γ. κοινωνικά
δ. οικονομικά

5. Η απαγόρευση της κατ' οίκον έρευνας χωρίς δικαστική εντολή, συνιστά το δικαίωμα:

- α. της δικαστικής προστασίας
β. της ισότητας
γ. της προσωπικής ασφάλειας
δ. του ασύλου της κατοικίας

6. Η αρχή του «φυσικού δικαστή» επιβάλλει να δικαζόμαστε από:

- α. δικαστή που είναι αρμόδιος για κάθε παρόμοια υπόθεση
β. ειδικούς δικαστές
γ. λαϊκούς δικαστές
δ. εκκλησιαστικά δικαστήρια

7. Οι περιορισμοί της προσωπικής ελευθερίας:

- α. απαγορεύονται αυστηρά
β. επιτρέπονται μόνο με διάταξη νόμου

γ. επιβάλλονται μόνο σε αλλοδαπούς
δ. συνιστούν τον κανόνα

8. Οι πολίτες συμμετέχουν στα φορολογικά βάρη:

- α. ανάλογα με τις οικονομικές τους δυνατότητες
β. με βάση την αρχή της ισότητας
γ. προαιρετικά
δ. με βάση συλλογικές συμβάσεις

9. Η απαγόρευση της σύλληψης και φυλάκισης του ατόμου χωρίς δικαστικό ένταλμα άμεσα επιδεικνυόμενο, αφορά την:

- α. θρησκευτική ελευθερία
β. ελευθερία του τύπου
γ. την προσωπική ασφάλεια
δ. το άσυλο κατοικίας

10. Η απαλλοτρίωση της ατομικής ιδιοκτησίας προϋποθέτει:

- α. συναίνεση του ιδιοκτήτη
β. καταβολή εγγυήσεως
γ. καταβολή πλήρους αποζημιώσεως
δ. τίποτε απ' τα παραπάνω

11. Ποιο από τα παρακάτω δεν ανήκει στα κοινωνικά δικαιώματα

- α. Το δικαίωμα στην κοινωνική ασφάλιση
β. Το δικαίωμα προστασίας προσωπικών δεδομένων
γ. Το δικαίωμα στην υγεία
δ. Το δικαίωμα στην παιδεία

12. Ποιο από τα παρακάτω δεν ανήκει στα ατομικά δικαιώματα

- α. Η αρχή της Ισότητας έναντι στο νόμο
β. Η αρχή της Ελευθερίας
γ. Το δικαίωμα του εκλέγειν
δ. Η δικαστική προστασία

13. Το δικαίωμα και η προστασία της ιδιοκτησίας κατοχυρώνεται στο Ελληνικό Σύνταγμα:

- α. Στο άρθρο 17
β. Στο άρθρο 8
γ. Στο άρθρο 25
δ. Στο άρθρο 62

14. Τα κοινωνικά δικαιώματα:

- α. Συνεπάγονται υποχρέωση θετικής δράσης του κράτους προκειμένου να τα παρέχει.
β. Έχουν ταυτόχρονα ατομική και συλλογική διάσταση.
γ. Δεν περιλαμβάνονται ρητά στο κείμενο του Συντάγματος, αλλά συνάγονται ερμηνευτικά.
δ. Συνεπάγονται απαγόρευση προς το κράτος σχετικά με ενέργειες που θα μπορούσαν να τα περιορίσουν.

15. Ποια από τα παρακάτω αποτελούν ατομικά δικαιώματα;

- α. Η συνδικαλιστική ελευθερία και το δικαίωμα στη δωρεάν παιδεία.
β. Το δικαίωμα προστασίας της οικογένειας και της μητρότητας.
γ. Η ελεύθερη έκφραση της γνώμης και η ελευθερία του Τύπου.
δ. Το δικαίωμα του εκλέγειν και εκλέγεσθαι.

16. Για να υπάρξουν ιδιωτικά ΑΕΙ στη χώρα μας «ισότιμα από κάθε άποψη» με τα αντίστοιχα δημόσια απαιτείται:

- α. Αναθεώρηση στο άρθρο 16
β. Νέος τυπικός νόμος
γ. Αναθεώρηση στο άρθρο 25
δ. Νέος οργανικός νόμος

17. Ήπιο Σύνταγμα χαρακτηρίζεται:

- α. Οι κανόνες του δεν μπορούν να τροποποιηθούν ή να καταργηθούν
β. Που προβλέπει ήπιες ποινές και μέτρα σε περιπτώσεις παράβασης των κανόνων του
γ. Οι κανόνες του αναθεωρούνται με τη συνήθη νομοθετική διαδικασία που προβλέπεται για την θέσπιση κοινών κανόνων δικαίου
δ. Θεσπίζει ένα δημοκρατικό πολίτευμα, που απονέμει στους πολίτες ατομικά, πολιτικά και κοινωνικά δικαιώματα

18. «Εφάπαξ» νόμος είναι:

- α. Έχει αντικείμενο την προστασία των κεφαλαίων που εισάγονται από το εξωτερικό
β. Η έκδοσή του προβλέπεται από συνταγματικές διατάξεις για τη ρύθμιση του τρόπου συγκρότησης και λειτουργίας των άμεσων οργάνων του Κράτους
γ. Στο πεδίο εφαρμογής του εμπίπτει συγκεκριμένο πρόσωπο
δ. Τυπικός νόμος που εκδίδεται μόνο μια φορά, μέσα σε τακτή προθεσμία από τη θέση σε ισχύ του Συντάγματος

19. Οι πράξεις νομοθετικού περιεχομένου εκδίδονται από:

- α. Την Κυβέρνηση
β. Τον Πρόεδρο της Δημοκρατίας ύστερα από πρόταση του αρμόδιου Υπουργού
γ. Τον Πρόεδρο της Δημοκρατίας ύστερα από πρόταση του Υπουργικού Συμβουλίου
δ. Τη Βουλή

20. Οι πράξεις νομοθετικού περιεχομένου παύουν να ισχύουν:

- α. Εάν δεν εγκριθούν από τη Βουλή άμεσα
β. Εάν δεν εγκριθούν από τη Βουλή μέσα σε τρεις μήνες από την υποβολή τους
γ. Εάν δεν εγκριθούν από την Κυβέρνηση άμεσα
δ. Εάν δεν εγκριθούν από την Κυβέρνηση μέσα σε τρεις μήνες από την έκδοσή τους

21. Πόσες φορές πραγματοποιήθηκε

1. Επιλέξτε το ζευγάρι λέξεων που θεωρείτε ότι συμπληρώνει τη σχέση.

Ήπειρος	Μακεδονία
;	;
Α. Ελλάδα - Αίγυπτος	Γ. Ευρώπη - Κίνα
Β. Ιταλία - Ισπανία	Δ. Γαλλία - Παρίσι

2. Επιλέξτε το ζευγάρι λέξεων που θεωρείτε ότι συμπληρώνει τη σχέση.

Ψυχολόγος	Νους
;	;
Α. Βοτανολόγος - Μάνγκο	Γ. Καρδιά - Καρδιολόγος
Β. Ορθοπαιδικός - Οστό	Δ. Οφθαλμίατρος - Νεύρο

3. Επιλέξτε το ζευγάρι λέξεων που θεωρείτε ότι συμπληρώνει τη σχέση.

Φτωχός	Πλούσιος
;	;
Α. Φιλάργυρος - Ζητιάνος	Γ. Γάτα - Ποντίκι
Β. Πλούτος - Χρήματα	Δ. Νεκρός - Ζωντανός

4. Επιλέξτε τη λέξη που θεωρείτε ότι συμπληρώνει τη σχέση.

Καπετάνιος	Πλοίο
Πιλότος	;
Α. Τρένο	Γ. Αεροπλάνο
Β. Αυτοκίνητο	Δ. Υποβρύχιο

5. Επιλέξτε το ζευγάρι λέξεων που θεωρείτε ότι συμπληρώνει τη σχέση.

Ξυθουργός	Έπιπλα
;	;
Α. Δακτυλογράφος - Πλήκτρα	Γ. Ποιήματα - Ποιητής
Β. Η/Υ - Προγράμματα	Δ. Μάγειρας - Μπιφτέκια

6. Επιλέξτε το ζευγάρι λέξεων που θεωρείτε ότι συμπληρώνει τη σχέση.

Λουλούδι	Όμορφο
;	;
Α. Εχθρός - Κακός	Γ. Γλυκό - Μυρωδιά
Β. Τριαντάφυλλο - Λουλούδι	Δ. Ψηλός - Άντρας

7. Επιλέξτε τη λέξη που θεωρείτε ότι συμπληρώνει τη σχέση.

Σελίδα	Βιβλίο
Φύλλο	;
Α. Δάσος	Γ. Κόκκινο
Β. Ρίζα	Δ. Δέντρο

8. Εάν κάθε σύμφωνο της λέξης «ΑΚΟΜΗ» αλλάξει στο προηγούμενο γράμμα της αλφαβήτου και κάθε φωνήεν αλλάξει στο επόμενο γράμμα της αλφαβήτου και οι νέες αλφαβητικές σειρές που σχηματίστηκαν τοποθετηθούν αλφαβητικά ποιο από τα παρακάτω θα είναι το μεσαίο γράμμα;

- (α) Θ (β) Ι
(γ) Λ (δ) Ξ

9. Ο Νίκος είπε στον Γιώργο «Αυτό το αγόρι που παίζει ποδόσφαιρο είναι το μικρότερο από τα δύο αδέρφια της κόρης της γυναίκας του πατέρα μου». Πώς σχετίζεται το αγόρι που παίζει ποδόσφαιρο με τον Νίκο;

- (α) Υιός (β) Αδελφός
(γ) Ξάδερφος (δ) Κουνιάδος

10. Επιλέξτε τη λέξη που είναι διαφορετική από τις υπόλοιπες.

- (α) Παϊτό (β) Πουκάμισο
(γ) Μπιούζα (δ) Παντελόνι

11. Σε πόσες ξεχωριστές λέξεις μπορεί να χωριστεί η λέξη ΑΝΤΙΔΙΑΣΤΟΛΗ χρησιμοποιώντας κάθε γράμμα μόνο μία φορά και χωρίς να αλλαχθεί η σειρά των γραμμάτων;

- (α) Καμία (β) Μία
(γ) Δύο (δ) Τρεις

12. Πόσα διαφορετικά ζεύγη γραμμάτων υπάρχουν στη λέξη ΑΠΑΡΑΤΗΡΗΤΟΣ που να έχουν μεταξύ τους τόσα γράμματα απόσταση όσα έχουν και στο αλφάβητο και με την ίδια σειρά;

- (α) Κανένα (β) Ένα
(γ) Δύο (δ) Τρία

13. Ποια από τις παρακάτω λέξεις είναι αντικανονική βάσει της λίστας: Ο Η Π Υ Ν Γ Ρ Ι ;

- (α) ΝΗΠΙΟ (β) ΓΥΡΝΟΥΝ
(γ) ΠΝΙΓΗΡΗ (δ) ΑΓΡΥΠΝΗ

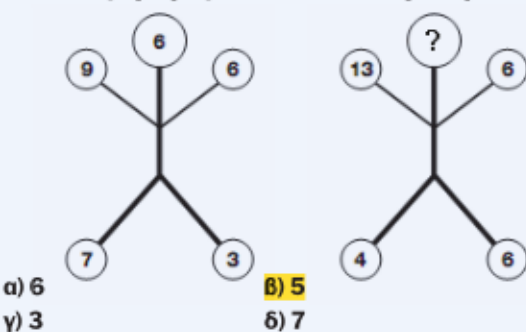
14. Ποιο γράμμα είναι το 8ο γράμμα στα δεξιά από το 10ο γράμμα στα αριστερά του προτελευταίου γράμματος της αλφαβήτου;

- (α) Χ (β) Φ
(γ) Ι (δ) Θ

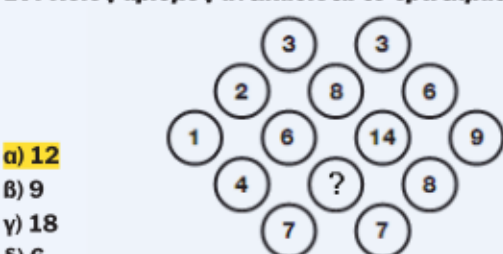
15. Ποιο από τα παρακάτω δεν ταιριάζει με τα υπόλοιπα;

- (α) ΒΕ (β) ΖΙ
(γ) ΝΠ (δ) ΧΩ

16. Ποιος αριθμός αντικαθιστά το ερωτηματικό;



17. Ποιος αριθμός αντικαθιστά το ερωτηματικό;



ΕΞΗΓΗΣΗ: Το διάγραμμα περιέχει δύο ρόμβους των 3x3, τακτοποιημένα το ένα δίπλα στο άλλο, με τους κεντρικούς 4 κύκλους να επικαλύπτονται. Ξεκινώντας από τον κεντρικό αριστερό κύκλο κάθε διαμαντιού, οι αριθμοί από το 1 έως το 9 γράφονται σε γραμμές, κινούμενοι προς τα πάνω και προς τα δεξιά. Στους κύκλους όπου τα διαμάντια επικαλύπτονται, οι τιμές προστίθενται για να δώσουν αυτές που φαίνονται στο τελικό διάγραμμα.

ΣΥΝΕΧΕΙΑ ΣΤΗΝ ΕΠΟΜΕΝΗ ΣΕΛΙΔΑ

αναθεώρηση του ισχύοντος Συντάγματος:

- α. Μια φορά, το 1975
β. Μια φορά, το 2001
γ. Τα έτη 1986, 2001, 2008, 2019
δ. Μετά το 1975 καμία άλλη φορά

22. Ο έλεγχος της συνταγματικότητας των νόμων λέγεται διάχυτος διότι εναπόκειται:

- α. Στην ολομέλεια του Νομικού Συμβουλίου του Κράτους
β. Στην ολομέλεια του ΣτΕ
γ. Στην ολομέλεια του Ελεγκτικού Συνεδρίου
δ. Σε δικαστήριο οποιασδήποτε δικαιοδοσίας ή βαθμού

23. Οι Συντακτικές πράξεις μέχρι την αποκατάσταση της νομιμότητας, είναι ανώτερης τυπικής ισχύος από:

- α. Το Σύνταγμα και τους νόμους
β. Το Σύνταγμα
γ. Τα ψηφίσματα
δ. Τους τυπικούς νόμους

24. Αν υποθεθεί ότι Σ = Σύνταγμα, Ν = Νόμος, Δ = Διοικητική πράξη και ΔΣ = Κανόνες διεθνών συμβάσεων που κυρώθηκαν με νόμο, ποια είναι η σωστή ιεράρχηση από άποψη τυπικής ισχύος;

- α. ΔΣ - Σ - Δ - Ν
β. ΔΣ - Δ - Σ - Ν
γ. Σ - ΔΣ - Ν - Δ
δ. Σ - Ν - ΔΣ - Δ

25. Ποιο είναι το κριτήριο προκειμένου να χαρακτηριστεί ένας κανόνας δικαίου ως κανόνας του ουσιαστικού Συντάγματος;

- α. Η αυξημένη τυπική ισχύς του έναντι των λοιπών κανόνων της έννομης τάξης.
β. Το περιεχόμενό του ως κανόνα που αφορά την οργάνωση και τη λειτουργία της Πολιτείας
γ. Η προέλευσή του από τη Βουλή.
δ. Το Α και το Β μαζί

26. Ποιο από τα παρακάτω αποτελεί συνθήκη του πολιτεύματος;

- α. η σύγκληση συμβουλίου πολιτικών αρχηγών υπό τον Πρόεδρο της Δημοκρατίας
β. Η αρχή της δεδηλωμένης
γ. Η έως σήμερα μη άσκηση της αρμοδιότητας αναπομπής νόμου από τον ΠτΔ προς τη Βουλή
δ. Τίποτε από τα ανωτέρω

27. Μεταδεδομένα ηλεκτρονικών εγγράφων είναι:

- Α. το σύστημα ηλεκτρονικής αρχειοθέτησης, διαχείρισης, πρωτοκόλλησης, διακίνησης και διεκπεραίωσης εγγράφων.
Β. πληροφορίες, που πιστοποιούν την γνησιότητα της υπογραφής του εκδότη του εγγράφου
Γ. τα σύνολα πληροφορίας που συνοδεύουν και χαρακτηρίζουν τα ηλεκτρονικά έγγραφα και επιτρέπουν την ανεύρεση, κατα-

νόηση και επιβεβαίωση της γνησιότητάς τους από ανθρώπους ή συστήματα
Δ. πληροφορίες που εγγυώνται την ασφάλεια του περιεχομένου του εγγράφου

28. Χρήστης συστήματος ηλεκτρονικής διαχείρισης εγγράφων είναι

- Α. ένας ή περισσότεροι υπάλληλοι ανά υπηρεσιακή μονάδα με δικαίωμα πρόσβασης στο σύστημα ηλεκτρονικής διαχείρισης εγγράφων
Β. ο Υπεύθυνος Επεξεργασίας Προσωπικών Δεδομένων
Γ. ο Εκτελών την Επεξεργασία Προσωπικών Δεδομένων
Δ. οποιοσδήποτε υπάλληλος της δημόσιας υπηρεσίας από την οποία εκδίδεται το ηλεκτρονικό έγγραφο

29. Ηλεκτρονικά έγγραφα με απλή ή προηγμένη ηλεκτρονική υπογραφή:

- Α. δεσμεύουν το δικαστήριο ως προς το περιεχόμενό τους και παρέχουν πλήρη απόδειξη
Β. δεν έχουν πλήρη δεσμευτική ισχύ για τα δικαστήρια, αλλά απαιτείται ειδική αιτιολογία σε περίπτωση έκδοσης απόφασης αντίθετης με το περιεχόμενό τους
Γ. εκτιμώνται ελεύθερα ως νόμιμα αποδεικτικά μέσα κατά τις ισχύουσες δικονομικές διατάξεις.
Δ. εκτιμώνται ως μη πληρούν τους όρους αποδεικτικά μέσα

30. Προϋποθέσεις παράλειψης οφειλόμενης νόμιμης ενέργειας είναι οι ακόλουθες:

- α. Σιωπή της διοίκησης για εξήντα μέρες
β. Σιωπή της διοίκησης για τρεις μήνες
γ. Ύπαρξη δέσμιας αρμοδιότητας του διοικητικού οργάνου που είναι αρμόδιο για την έκδοση της πράξης
δ. Το α, β και γ μαζί

31. Η πειθαρχική ποινή σε δημόσιο υπάλληλο προσωρινής αργίας συνιστά:

- α. Διοικητική εκτέλεση
β. Διοικητικό καταναγκασμό
γ. Αναπληρωτική εκτέλεση
δ. Διοικητική υπηρεσιακή κύρωση

32. Η πράξη απαλλοτριώσεως είναι πράξη που συνιστά:

- α. Στέρηση θρησκευτικής ελευθερίας
β. Στέρηση προσωπικής ελευθερίας
γ. Στέρηση ιδιοκτησίας
δ. Στέρηση πολιτικών δικαιωμάτων

33. Η αποζημίωση σε περίπτωση απαλλοτριώσεως χορηγείται από:

- α. Ποινικά δικαστήρια
β. Πολιτικά δικαστήρια
γ. Διοικητικά δικαστήρια
δ. Δικαστήρια απαλλοτριώσεων

34. Μια πράξη η οποία δημιουργεί υποχρεώσεις στο διοικούμενο είναι πράξη:

- α. Δυσμενής

- β. Ευμενής
γ. Αρνητική
δ. Θετική

35. Οι θετικές και αρνητικές πράξεις μπορούν να είναι:

- α. Εκτελεστές
β. Μη εκτελεστές
γ. Ρητές
δ. Ρητές ή σιωπηρές

36. Σε περίπτωση υποχρεωτικής γνωμοδότησης, η πράξη της γνωμοδότησης είναι:

- α. Εκτελεστική
β. Μη εκτελεστική
γ. Σύνθετη
δ. Απλή

37. Η ανάκληση μιας ατομικής διοικητικής πράξης διενεργείται:

- α. Από τις δικαστικές αρχές
β. Από το διοικητικό όργανο που την έχει εκδώσει
γ. Από τον προϊστάμενο του διοικητικού οργάνου που την έχει εκδώσει
δ. Από όλους τους παραπάνω

38. Σε περίπτωση διαπίστωσης ότι ένα τρόφιμο είναι επικίνδυνο για τη δημόσια υγεία είναι δυνατή η ανάκληση της άδειας εμπορίας του για λόγους:

- α. Δημοσίου συμφέροντος
β. Μεταβολής των πραγματικών συνθηκών
γ. Μεταβολής των νομικών συνθηκών
δ. Μη εκπλήρωσης υποχρεώσεων του διοικητικού δικαίου

39. Η ανάκληση της ανάκλησης μιας ατομικής διοικητικής πράξης:

- α. Επιτρέπεται
β. Δεν επιτρέπεται
γ. Επιτρέπεται στις δυσμενείς πράξεις
δ. Δεν επιτρέπεται. Όποτε όμως συμβαίνει, ισοδυναμεί με έκδοση νέας πράξης

40. Η ανάκληση παράνομης ατομικής διοικητικής πράξης ενεργεί:

- α. Για το παρόν
β. Από την έκδοση της παράνομης ατομικής διοικητικής πράξης
γ. Για το μέλλον
δ. Έχει αναδρομικότητα ενός έτους

41. Η ανάκληση μιας ατομικής διοικητικής πράξης είναι δυνατή εφόσον:

- α. Την επιτρέπει ο νόμος
β. Δεν την απαγορεύει ο νόμος
γ. Σε κάθε περίπτωση
δ. Το α και β

42. Η ισχύς μιας ατομικής διοικητικής πράξης λήγει:

- α. Με αχρησία
β. Με το θάνατό του διοικούμενου τον οποίο αφορά
γ. Με την πάροδο ορισμένης προθεσμίας
δ. Σε όλες τις παραπάνω περιπτώσεις

43. Η απιολογία συνιστά:

- α. Επουσιώδη τύπο έκδοσης μιας πράξης
β. Ουσιώδη τύπο έκδοσης μιας πράξης
γ. Εσωτερικό τύπο
δ. Το β και γ μαζί

44. Βασική συνέπεια της ψηφιακής διαφάνειας είναι:

- α. η αύξηση του λειτουργικού κόστους των δημοσίων υπηρεσιών
β. η ελάττωση της συνεχούς επέκτασης της διαθεσιμότητας των δημοσίων υπηρεσιών
γ. η αναδιοργάνωση και ο ορθολογισμός των διεργασιών της δημόσιας διοίκησης
δ. η αύξηση της γραφειοκρατίας

45. Προσδιορίστε τους τέσσερις πυλώνες της Ηλεκτρονικής Διακυβέρνησης

- α. Διαδικασίες, Άνθρωποι, Τεχνολογία και Πόροι
β. Πόροι, Διαδικασίες, Δικαιοσύνη και Κυβέρνηση
γ. Τεχνολογία, Άνθρωποι, Διαδικασίες και Γραφειοκρατία
δ. Η αρχή του «νόμου και τάξης», Άνθρωποι, Διαδικασίες και Τεχνολογία

46. Σε περίπτωση ανάρτησης ενός εγγράφου στον διαδικτυακό ιστότοπο

- A. το έγχαρτο έγγραφο υπερσχύει πάντοτε έναντι των λοιπών εκδόσεων της πράξης
B. το έγχαρτο έγγραφο υπερσχύει μόνο εάν προσυπογράφεται από κάποιο κυβερνητικό όργανο
Γ. το αναρτημένο έγγραφο υπερσχύει έναντι όλων των λοιπών εκδόσεων της πράξης
Δ. το αναρτημένο έγγραφο, εκτός όσων δημοσιεύονται στην Εφημερίδα της Κυβέρνησης, υπερσχύει έναντι όλων των λοιπών εκδόσεων της πράξης

47. Χρήστης συστήματος ηλεκτρονικής διαχείρισης εγγράφων είναι

- A. ένας ή περισσότεροι υπάλληλοι ανά υπηρεσιακή μονάδα με δικαίωμα πρόσβασης στο σύστημα ηλεκτρονικής διαχείρισης εγγράφων
B. ο Υπεύθυνος Επεξεργασίας Προσωπικών Δεδομένων
Γ. ο Εκτελών την Επεξεργασία Προσωπικών Δεδομένων
Δ. οποιοσδήποτε υπάλληλος της δημόσιας υπηρεσίας από την οποία εκδίδεται το ηλεκτρονικό έγγραφο

48. Τα συστήματα ηλεκτρονικού πρωτοκόλλου εκδίδουν ηλεκτρονικό αποδεικτικό καταχώρισης που περιλαμβάνει:

- α. στοιχεία για την ημερομηνία και τον τόπο έκδοσης του εγγράφου
β. στοιχεία κρυπτογράφησης του εγγράφου
γ. στοιχεία ταυτοποίησης του εγγράφου, όπως εκδότης, θέμα, ημερομηνία και ώρα καταχώρισης, καθώς και το μοναδικό αριθμό ηλεκτρονικού πρωτοκόλλου
δ. στοιχεία για τον φορέα που εκδίδει το έγγραφο

49. Οι φορείς του δημόσιου τομέα μπορούν να γνωστοποιούν ηλεκτρονικά έγγραφα

- α. σε φυσικά πρόσωπα ή Ν.Π.Ι.Δ.
β. μόνο σε φυσικά πρόσωπα
γ. μόνο σε νομικά πρόσωπα, τα οποία το Δημόσιο κατέχει το 50% συν 1 των μετοχών του
δ. μόνο σε άλλους φορείς του δημόσιου

50. Το σύστημα γνωστοποίησης των ηλεκτρονικών εγγράφων πρέπει να επιτρέπει την:

- α. απόδειξη ότι ο φορέας έλαβε γνώση του εγγράφου
β. ασφαλή αποθήκευση του ηλεκτρονικού εγγράφου σε δημόσιο διαδικτυακό ιστότοπο
γ. εξακρίβωση του ακριβούς χρόνου, κατά τον οποίο έλαβε χώρα η αποστολή, παραλαβή και η πρόσβαση στο περιεχόμενο του εν λόγω εγγράφου
δ. εξακρίβωση του φορέα που έλαβε γνώση του ηλεκτρονικού εγγράφου

51. Τα εισερχόμενα έγγραφα που προέρχονται από φορέα εντός του ενιαίου πρωτοκόλλου (σύστημα ηλεκτρονικής διαχείρισης εγγράφων) φέρουν:

- α. τον τόπο έκδοσης και την ημερομηνία πρωτοκόλλου από το ίδιο το σύστημα
B. αριθμό και ημερομηνία πρωτοκόλλου από το ίδιο το σύστημα
Γ. την φυσική υπογραφή των αρμόδιων προς υπογραφή οργάνων της διοίκησης
Δ. την ημερομηνία πρωτοκόλλου από το ίδιο το σύστημα

52. Δημόσια Υπηρεσία με την οργανική έννοια του όρου είναι:

- α. όσες υπηρεσίες έχουν διοικητική και δημοσιονομική αυτοτέλεια
β. οι οργανωτικοί σχηματισμοί του Δημοσίου που ανήκουν στην κεντρική διοίκηση του κράτους
γ. κάθε δραστηριότητα που έχει ως αντικείμενο την παραγωγή αγαθών ή την παροχή υπηρεσιών που εξυπηρετούν το δημόσιο συμφέρον
δ. κάθε οργανωτικός σχηματισμός του Δημοσίου, μέσω του οποίου επιδιώκει την πραγματοποίηση των σκοπών του ασκώντας δημόσια εξουσία

53. Η Αρχή της χρηστής διοίκησης σημαίνει :

- α. ότι η διοίκηση οφείλει να ασκεί τις αρμοδιότητές της με δίκαιο τρόπο, ώστε να είναι αποτελεσματική και να μην αδικεί τους διοικούμενους
β. ότι η διοίκηση οφείλει να αντιμετωπίζει με ίσο τρόπο τους διοικούμενους
γ. ότι η διοίκηση οφείλει να αποδεικνύει στο διοικούμενο ότι δρα για την πρόαψη των συμφερόντων του
δ. ότι η διοίκηση οφείλει να ενεργεί ό,τι επιβάλλεται ή επιτρέπεται από τους κανόνες δικαίου που διέπουν την δράση της.

54. Ένα από τα πιο κάτω δεν υπολογίζεται από τους εθνικούς**λογαριασμούς:**

- α. Η συνολική απασχόληση και η συνολική ανεργία.
β. Το εθνικό και το εγχώριο προϊόν.
γ. Το εθνικό και το εγχώριο εισόδημα.
δ. Η εθνική και η εγχώρια δαπάνη.

55. Αντικείμενο της μακροοικονομικής είναι:

- α. Ο δημόσιος τομέας της οικονομίας
β. Ο ιδιωτικός τομέας της οικονομίας
γ. Η συνολική οικονομία
δ. Τίποτα από τα προηγούμενα

56. Ένα από τα παρακάτω μέτρα δεν αποτελεί κατηγορία μέτρων μακροοικονομικής πολιτικής:

- α. Τα μέτρα εισοδηματικής πολιτικής.
β. Τα μέτρα εκπαιδευτικής πολιτικής.
γ. Τα μέτρα νομισματικής πολιτικής.
δ. Τα μέτρα δημοσιονομικής πολιτικής.
ε. Τα μέτρα εξωτερικής οικονομικής πολιτικής.

57. Το Ακαθάριστο Εγχώριο Προϊόν (Α.Ε.Π.) περιλαμβάνει:

- α. Το τελικό προϊόν σε χρηματικές μονάδες.
β. Το προϊόν της παραοικονομίας.
γ. Το προϊόν της ίδιας κατανάλωσης
δ. Τίποτα από τα παραπάνω

58. Ποιο από τα παρακάτω προσμετράται στο Ακαθάριστο Εγχώριο Προϊόν;

- α. οι δαπάνες για κοινωνική ασφάλιση
β. τα κέρδη από το χρηματιστήριο
γ. η καταβολή αποζημίωσης από μια ασφαλιστική εταιρεία
δ. ο μισθός ενός αστυφύλακα

59. Ένας από τους πιο κάτω δείκτες δεν συμπεριλαμβάνεται στον γενικό δείκτη χονδρικής πώλησης:

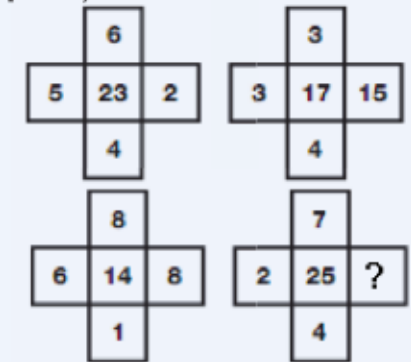
- α. Ο δείκτης εισαγόμενων προϊόντων.
β. Ο χρηματιστηριακός δείκτης.
γ. Ο δείκτης εξαγόμενων προϊόντων.
δ. Ο δείκτης τελικών πρωτογενών προϊόντων για εγχώρια χρήση.
ε. Ο δείκτης τελικών βιομηχανικών προϊόντων για εγχώρια χρήση.

60. Ο στασιμοπληθωρισμός αναφέρεται σε μία:

- α. ταυτόχρονη μείωση του προϊόντος και του γενικού επιπέδου των τιμών
β. ταυτόχρονη αύξηση του προϊόντος και του γενικού επιπέδου των τιμών
γ. αύξηση του γενικού επιπέδου των τιμών και μείωση του προϊόντος και της απασχόλησης
δ. όλα τα παραπάνω.

61. Ο πληθωρισμός μπορεί:

- α. να αναδιανέμει εισόδημα μεταξύ των ατόμων της οικονομίας
β. να μειώσει την οικονομικά αποτελεσματικότητα
γ. να προκαλέσει μεταβολές σε προϊόν και απασχόληση
δ. όλα τα παραπάνω.

18. Ποιος αριθμός αντικαθιστά το ερωτηματικό;

- α) 5
β) 1
γ) 4
δ) 6

ΕΞΗΓΗΣΗ: Προσθέστε τους τέσσερις εξωτερικούς αριθμούς και τοποθετήστε την απάντησή σας στο κεντρικό τετράγωνο του σχήματος μία θέση δεξιόστροφα.

19. Ποιος αριθμός αντικαθιστά το ερωτηματικό;

1	0	0	2	5	6
1	2	1	2	8	9
1	4	4	3	2	4
1	6	9	3	6	1
1	9	6	4	0	0
2	2	5	4	4	?

- α) 1
β) 3
γ) 4
δ) 6

ΕΞΗΓΗΣΗ: Χωρίστε το πλέγμα στη μέση κάθετα, για να δώσετε δύο στήλες, πλάτους 3 τετραγώνων. Δουλεύοντας από πάνω προς τα κάτω, αριστερά και μετά δεξιά και διαβάζοντας κάθε 3 τετράγωνη σειρά ως ακέραιο τριψήφιο αριθμό, οι στήλες ακολουθούν την ακολουθία τετραγωνικών αριθμών, από το 10 έως το 21.

20. Ποιος αριθμός αντικαθιστά το ερωτηματικό;

- α) 1
β) 12
γ) 6
δ) 8

ΕΞΗΓΗΣΗ: Λαμβάνοντας οποιαδήποτε σειρά από 3 αριθμούς σε ευθεία γραμμή στο διάγραμμα, το σύνολο τους είναι πάντα 19.

**21. Ποιος αριθμός αντικαθιστά το ερωτηματικό;**

- α) 11
β) 1
γ) 8
δ) 2

ΕΞΗΓΗΣΗ: Δουλεύοντας από την επάνω σειρά, προσθέστε τις τιμές σε διπλανά πλαίσια και βάψτε αυτό το άθροισμα στο πλαίσιο ακριβώς από κάτω, δουλεύοντας προς το κέντρο. Επαναλάβετε αυτό το μοτίβο ξεκινώντας και από την κάτω σειρά.

